

# آزمون های مرحله ای بنیاد امام صادق (ع)



## کلاس، منضم


آزمون مرحله : دوم

نام و نام خانوادگی :

شماره داوطلب :

تاریخ : ۹۲/۱۱/۲

زمان : ۱۰۵ دقیقه



اسامی طراحان سوالات آزمون مرحله اول دبیرستانهای امام صادق (ع) (دوره اول)

نام درس	نام طراح	تعداد سوالات	از شماره	تا شماره
ادبیات فارسی	آقای منصوری	۱۰	۱	۱۰
دینی	خانم محمدی	۵	۱۱	۱۵
قرآن	خانم محمدی	۵	۱۶	۲۰
عربی	خانم محمدی	۱۰	۲۱	۳۰
زبان خارجه	آقای رجبی	۱۰	۳۱	۴۰
ریاضی	آقای گلزار	۱۵	۴۱	۵۵
علوم	آقای صادقی	۱۵	۵۶	۷۰
علوم اجتماعی	خانم محضب	۱۰	۷۱	۸۰
فناوری	آقای قریانی	۱۰	۸۱	۹۰

آزمون نمره منفی دارد

موفق باشید

۱- در کدام قسمت کلمات متضاد (مخالف) وجود ندارد؟ الف) فرمان گذار ، فرمان بُردار ب) بخیل ، سخاوتمند ج) دانش ، جهل د) سود ، منفعت
۲- املای کدام کلمه با توجه به معنای آن، نادرست است؟ الف) قبور : قبرها ب) حیاط : زندگی ج) تعیین : مشخص کردن د) اثنا : میان
۳- مفهوم این عبارت در کدام قسمت آمده است؟ « این دل ها چون ظرف هاست و بهترین آن ها نگاه دارنده ترین آن هاست » الف) نظر به کار مفید نمی نماید کس هزار دیده نگهبان یک خطای من است. ب) گور خانه راز تو چون دل بود دان مرادت زودتر حاصل بود ج) غنچه گفتم ، گرچه دل تنگم مثل لبخند باز خواهم شد د) برگ درختان سبز در نظر هوشیار هر ورقش دفتری است معرفت کردگار
۴- شعری است درباره ی یک موضوع واحد، اما قافیه در مصراع های دو و چهار آن دو بیت، دو بیت عوض می شود. الف) چهار پاره ب) قطعه ج) مثنوی د) رباعی
۵- کتاب « کویر » از کیست ؟ الف) سعدی ب) دکتر شهیدی ج) شهید مطهری د) دکتر شریعتی
۶- ساخت کدام کلمه با کلمات دیگر تفاوت دارد؟ الف) عروسک ب) شاخک ج) کوچک د) بامک
۷- در کدام قسمت آرایه ی تشخیص وجود ندارد؟ الف) شب زاسرار علی آگاه است ب) شبنم از روی برگ گل برخاست ج) تا معلم زگرد راه رسید د) دانه آرام بر زمین غلتید الف) دل شب محرم سرّ الله است ب) گفتم می خواهم آفتاب شوم ج) گفتم با چهره ای پر از خنده د) رفت و انشای کوچکش را خواند
۸- معنای واژه های مشخص شده در تمام گزینه ها درست است، به جز گزینه ی ..... الف) این دوره را با تأمل ، تفکر و بصیرت همراه کنیم. (اندیشیدن) ب) همه شب دیده بر هم نبسته و مصحف عزیز بر کنار گرفته. (قرآن) ج) در برخی از مطبوعات از انحراف نسل جوان سخن می گویند. (روزنامه ها) د) ای کمیل ، گنجوران مال، مرده اند، گرچه زنده اند. (ثروت اندوزان)
۹- در کدام قسمت مسند وجود ندارد؟ الف) توانا بود هر که دانا بود ب) شال می بست و ندایی مبهم ج) میهن عزیز ما ایران ، سرزمین علم و فرهنگ است. د) تن هاشان ناپایدار است و نشانه ها شان در دل ها آشکار الف) زدانش دل پیر بُرنا بود ب) که کمربند شهادت محکم
۱۰- بن ماضی و مضارع کدام قسمت غلط است؟ الف) انباشتن - انباشت - بار ب) رفتن ، رفت ، رو ج) دوختن - دوخت - دوز د) ساختن - ساخت ، ساز



۱۱- دلیل پذیرش حکومت توسط امام علی (ع) چه بود؟	
الف) زنده کردن امر نماز	ب) ایجاد عدالت بین مردم
ج) از بین بردن کافران	د) انجام امر به معروف و نهی از منکر
۱۲- حضرت زهرا (س) سعادت زنان را در ..... می دانستند.	
الف) ساده زیستی	ب) تربیت فرزندان صالح
ج) دوری از مردان نامحرم	د) حاضر نشدن در اجتماع
۱۳- احساس با ارزش بودن یعنی :	
الف) خستگی ناپذیر بودن	ب) متواضع بودن
	ج) کمک به دیگران
	د) عزت نفس
۱۴- کدام گزینه صحیح نیست.	
الف) ماجرای ایثار حضرت علی (ع) در شب مبعث رسول اکرم (ص) به لیلۃ المبیت مشهور است.	
ب) خداوند حضرت محمد (ص) را به عنوان رحمت برای تمام جهانیان می داند.	
ج) تنها راه رسیدن به سعادت دنیا و آخرت ، دین است.	
د) خوش رفتاری با پدر و مادر موجب آسان شدن دشواریهای مرگ می شود.	
۱۵- از راههایی که می توان یاری خداوند را جلب کرد.	
الف) انفاق ، تقوا	ب) صبر ، تقوا
	ج) روزه ، جهاد در راه خدا
	د) روزه ، صدقه

۱۶- کدام ترکیب قرآنی زیر صحیح ترجمه نشده است؟	
الف) أَوْحَى رَبُّكَ ، پروردگارت وحی کرد	ب) تَوَكَّلْ عَلَيْهِ ، بر او توکل کن
ج) لَهُاَسْبَعَةُ أَبْوَابٍ ، برای آن هشت در است	د) وَمِنْ كُلِّ الثَّمَرَاتِ ، و از همه میوه ها
۱۷- ترجمه کلمات «بُطُون ، ذُرَّاءُ ، أَلِیم ، يَذْكُرُونَ ، إِنْ» به ترتیب کدام گزینه است.	
الف) شکم ها ، کِشت ، درد ، پند می گیرند ، نیست	
ب) شکم ، پدید آورد ، دردناک ، پند می دهند ، نه	
ج) شکم ها ، زراعت ، دردمند ، پند می دهند ، قطعاً	
د) شکم ها ، پدید آورد ، دردناک ، پند می گیرند ، اگر	
۱۸- در کدام گزینه ( حرف ل ) ترجمه نمی شود؟	
الف) لَهُ مَا فِي السَّمَاوَاتِ وَالْأَرْضِ	ب) لَيْسَ لَكَ عَلَيْهِمْ سُلْطَانٌ
ج) إِنْ جَهَنَّمَ لَمَوْعِدُهُمْ	د) اسْتَغْفِرْ لَنَا
۱۹- کدام گزینه با بقیه ناهماهنگ است.	
الف) ثَمَرَة	ب) سَبِيل
	ج) جِبَال
	د) نُجُوم

۲۰- کدام عبارت قرآنی صحیح ترجمه شده است.
الف) قُلْ اللَّهُ خَالِقُ كُلِّ شَيْءٍ ، گفت خدا آفریننده همه چیز است.
ب) مُخْتَلِفُهُ أَلْوَانُهُ ، طعم هایش گوناگون است.
ج) رَبِّ اجْعَلْنِي مُقِيمَ الصَّلَاةِ ، پروردگارا مرا برپا کننده نماز قرار بده
د) لَعَلَّكُمْ تَعْقِلُونَ ، امید است آنها اندیشه کنند

بهمن ۱۳۹۲

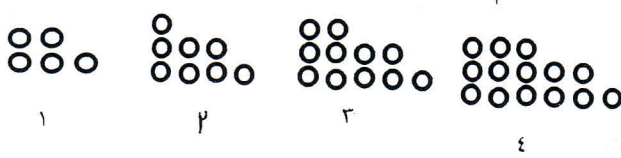
### درس عربی پایه هفتم آزمون مرحله دوم دبیرستانهای امام صادق (ع)

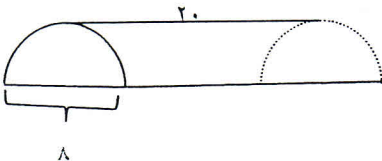
۲۱- ترجمه ی کدام عبارت صحیح است؟
الف) لِمَنْ هَذَا الْبَيْتُ ؟ این دختر مال کیست ؟
ب) هَلْ هُنَا مَدْرَسَتُكَ ؟ ( آیا اینجا مدرسه ی توست ؟ )
ج) رَبِّ كَلَامِ جَوَائِهِ السَّكُوتِ . ( هر کلام بدی جوابش سکوت است )
د) لِكُلِّ صَفٍّ لَوْحَتَانِ جَمِيلَتَانِ . ( هر کلاس دو تابلوی زیبا دارد )
۲۲- کدام گزینه پاسخ این سؤال است. « كَمْ أُسْبُوعًا فِي ثَلَاثَةِ شُهُورٍ ؟ ..... »
الف) اربعة (ب) ثمانية (ج) إثنا عشر (د) تسعة
۲۳- اسم اشاره مناسب « ..... الرجال في الشارع . آن مردان در خیابان هستند » کدام گزینه است.
الف) ذلك (ب) هؤلاء (ج) اولئك (د) تلك
۲۴- در کدام گزینه جمع مکسر وجود ندارد.
الف) فی کتاب تاریخ ، غیر مفیده
ب) فی تلك السيارة حقائب المسافرين
ج) حسن العهد من غلائم الايمان
د) عليك باحسان الوالدين
۲۵- مفهوم کدام حکمت با بقیه متفاوت است.
الف) الجهل موت الاحياء
ب) خير الامور اوسطها
ج) العلم في الصغر كالنقش في الحجر
د) قيمة الانسان بالعلم و الايمان
۲۶- کدام گزینه مناسب جای خالی است. « جائزة هذا اللاعب ..... »
الف) ذهبي (ب) ذهبيه (ج) صغير (د) خشبي
۲۷- کدام گزینه مناسب جای خالی نیست. « ..... صديقان . »
الف) هما (ب) انما (ج) هاتان (د) نحن
۲۸- در کدام گزینه دو کلمه با هم متضاد هستند.
الف) الحديقة ≠ البستان (ب) صداقه ≠ عداوه (ج) رجل ≠ امرأة (د) شر ≠ سوء
۲۹- کدام گزینه صحیح است.
الف) اللغة الرسمية في ايران ، اللغة الفارسية
ب) اليوم قيمة الذهب ، رخيصة
ج) عدد قبل تسعة ، تسعة
د) الصبر عمود الدين
۳۰- در کدام گزینه، فعل صحیح به کار برده نشده است.
الف) هي صديقتي ، طرقت الباب
ب) هؤلاء الاصدقاء رجعوا من الحديقة
ج) اولئك الطالبات ذهبن الى الشارع
د) الولدان سمعنا كلام الأم

۳۱ - Who is that woman?
a) That's Erfan    b) She's a teacher    c) She's my aunt    d) He's my uncle
۳۲ - Your father's brother is your .....
a) aunt    b) uncle    c) sister    d) mother
۳۳ - ..... ? It's in Bahman .
a) What's your first name?    b) How are you?
c) Who are you?    d) When is your birthday?
۳۴ - Which dictation is wrong?    - کدام املا غلط است ؟
a) conversation    b) relationship    c) housewife    d) mechanic
۳۵ - Can I have my library card, please?
a) Sure    b) Really?    c) Oh, I see    d) Thank you
۳۶ - How old is your brother?
a) He's fine    b) He's fifteen    c) It's in Mehr    d) He is a dentist
۳۷ - What is ۳ plus ۶ minus ۴?
a) ten    b) seven    c) five    d) six
۳۸ - You can introduce a new friend to the class by: " ....."
a) Nice to meet you, friend    b) Let's talk to our friend
c) Welcome to our school    d) This is my friend, Ali
۳۹ - Which one is not your family member?
a) father    b) aunt    c) mother    d) sister
۴۰) Which item is not about people's greetings?
a) Nice to meet you    b) Hello    c) How are you?    d) What's your job?

۴۱- در تساوی $xy=30$ می توانیم به جای $x$ و $y$ اعداد صحیح بگذاریم به طوری که $(x > y)$ ، چند جواب می توان برای این تساوی نوشت؟			
۸(۴)	۱۰(۳)	۱۲(۲)	۱۶(۱)



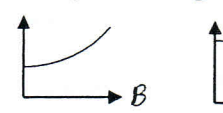

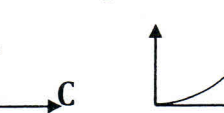
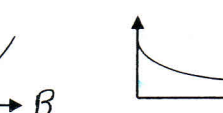
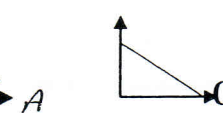

۴۲- چند عدد سه رقمی بیشتر از ۲۰۰ می توان نوشت به طوری که حاصل ضرب ارقامش ۳۵ باشد؟			
۴(۱)	۵(۲)	۶(۳)	۸(۴)
۴۳- با توجه به الگوی روبه رو در شکل شماره ی (۳۰) چند دایره داریم؟			
			
۱۲۸(۱)	۱۲۰(۲)	۹۲(۳)	۹۱(۴)
۴۴- حاصل عبارت روبه رو چند می شود؟ $-۸-۲(۳-۷) \div (-۸) =$			
-۲(۱)	-۱(۲)	۳(۳) صفر	-۹(۴)
۴۵- در کسر روبه رو $X, Y, Z, T$ می توانند اعداد صحیح یک رقمی متفاوت باشند. $\frac{x-y}{z-t}$ کمترین مقدار برای حاصل کسر کدام است؟			
-۱۸(۱)	-۱۷(۲)	-۱۰(۳)	۴(۴) صفر
۴۶- میانگین شش عدد صحیح (۵-) شده است. چه عددی را اضافه کنیم تا میانگین همه ی عدد ها دوتایشتر از میانگین قبلی شود؟			
+۸(۱)	+۴(۲)	+۹(۳)	+۱۰(۴)
۴۷- در یک ۷ ضلعی تعداد قطر ها چند تا بیشتر از تعداد اضلاع است؟			
۷(۱)	۸(۲)	۱۰(۳)	۱۴(۴)
۴۸- در مثلث ABC بزرگ ترین زاویه ۶۸ درجه است. کوچک ترین زاویه ی ممکن برای این مثلث چند درجه است؟			
۳۳(۱)	۴۴(۲)	۲۲(۳)	۵۵(۴)
۴۹- طول ساق مثلث متساوی الساقینی ۸ سانتی متر است. بیشترین عددی که می تواند محیط این مثلث باشد در کدام گزینه آمده است؟			
۱(۱) عددی بین ۳۰ و ۳۱	۲(۲) عددی بین ۳۱ و ۳۲	۳(۳) عددی بین ۳۲ و ۳۳	۴(۴) عددی بین ۲۹ و ۳۰
۵۰- ساده شده ی عبارت $(a-b)-(2a-2b)-(3a-2b)$ در کدام گزینه آمده است؟			
$4a-4b(۱)$	$4a+4b(۲)$	$3a-4b(۳)$	$-4a+4b(۴)$
۵۱- اگر $\frac{x}{3} = \frac{y}{5} = 3$ باشد مقدار عددی عبارت $(x-y)(x+y)$ چند می شود؟			
-۱۴۴(۱)	۱۴۴(۲)	-۲۲۵(۳)	-۱۲۴(۴)
۵۲- جواب معادله ی $2(x-7)-3=-2(x+\frac{1}{2})$ کدام است؟			
۲(۱)	-۲(۲)	۴(۳)	-۴(۴)

۵۳- در یک منشور ۷ وجهی چند یال داریم؟			
۱۲(۱)	۱۵(۲)	۲۱(۳)	۹(۴)
۵۴- اگر $\pi=3$ باشد حجم جسم روبه رو که نیمی از یک استوانه است چقدر می شود؟			
			
۲۴۰(۱)	۳۶۰(۲)		
۴۲۰(۳)	۴۸۰(۴)		
۵۵- اگر یک طراح برای طرح زدن روی و جوه مکعبی به طول یال ۴، مبلغ ۱۲۰۰۰۰ تومان مزد بگیرد، برای طرح زدن روی مکعبی به طول یال ۸ و (بر اساس مساحت با همان کیفیت قبل) چقدر باید مزد بگیرد؟			
۲۴۰۰۰۰(۱)	۳۶۰۰۰۰(۲)	۴۸۰۰۰۰(۳)	۹۶۰۰۰۰(۴)

علوم تجربی هفتم آزمون مرحله دوم دبیرستانهای امام صادق (ع) بهمن ۱۳۹۲

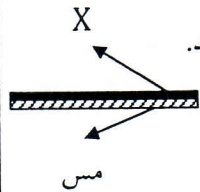
۵۶- ناپدید شدن مه، ایجاد برفک یخچال، تشکیل شبنم بر روی گل به ترتیب:			
الف) تبخیر، چگالش، میعان	ب) فرازش، انجماد، ذوب		
ج) ذوب، میعان، فرازش	د) انجماد، تبخیر، چگالش		
۵۷- «فکر می کنم بادوبرابر شدن فاصله جسم تا منبع نور، طول سایه دوبرابر شود» این جمله بیانگر چه نوع مهارتی است؟			
الف) مشاهده	ب) آزمایش	ج) اندازه گیری	د) فرضیه سازی
۵۸- سخت ترین و چکش خوارترین ماده به ترتیب:			
الف) چدن، فولاد	ب) الماس، طلا	ج) سرب، آلومینیم	د) مفرغ، برنج
۵۹- در هر مولکول کربن دی اکسید نسبت تعداد پروتون های موجود در هسته اتم ها به نوع عناصر سازنده:			
الف) ۱۱	ب) $\frac{14}{3}$	ج) ۷	د) $\frac{22}{3}$
۶۰- کدامیک از موارد زیر جزو خواص فیزیکی یک ماده محسوب نمی شود؟			
الف) رنگ	ب) جرم	ج) نقطه ذوب	د) رسانایی الکتریکی
۶۱- از بین مواد زیر، ترکیبات خالص را مشخص کنید.			
۱- شیشه، ۲- آهن اکسید، ۳- فولاد، ۴- سیمان، ۵- آهک، ۶- نقره، ۷- اکسیژن،			
الف) ۱، ۳، ۴، ۵، ۶، ۷	ب) ۶، ۷	ج) ۲، ۵	د) ۱، ۲، ۴، ۳، ۵
۶۲- ماده اولیه برای تولید سیمان، شیشه، آهک به ترتیب:			
الف) کلسیم کربنات، ماسه، کلسیم کربنات	ب) رس، ماسه، کلسیم اکسید		
ج) ماسه، کلسیم کربنات، رس	د) کلسیم اکسید، رس، ماسه		



۶۳- کدامیک از نمودارهای زیر صحیح است؟ «A (پوشش گیاهی) B (شیب زمین) C (نفوذپذیری زمین)»	آب زیرزمینی	آب جاری	آب زیرزمینی	آب جاری	آب زیرزمینی
					
(۶)	(۵)	(۴)	(۳)	(۲)	(۱)
۴ و ۶ (د)	۴ و ۱ (ج)	۶ و ۲ (ب)	۵ و ۳ (الف)		
۶۴- سرعت رودی $3m/s$ طول رود $120km$ و عرض آن $6m$ است. مقدار آبدهی این رود چند $m^3/s$ می باشد؟					
۲۱۶۰ (الف)	۲۱۶۰۰۰۰ (ب)	۳۶۰۰۰۰ (ج)	اطلاعات مسئله کافی نیست (د)		
۶۵- کدام گزینه غلط است؟					
(الف) میزان فضای خالی و نفوذپذیری در آبرفت ها زیاد است.					
(ب) در آبخوان تحت فشار لایه آبدار بین دو لایه نفوذناپذیر قرار دارد.					
(ج) هر چه عمق سطح ایستابی بیشتر باشد، عمق منطقه اشباع زیاد تر است.					
(د) جریان دریایی گلف استریم بر اثر اختلاف دما ایجاد می شود.					
۶۶- دقت اندازه گیری یک دماسنج نیم درجه سانتی گراد است. کدام یک از اعداد زیر یک نتیجه معتبر از این اندازه گیری می باشد؟					
۶/۲ °C (الف)	۸۱ °C (ب)	۰/۳۰۰ °C (ج)	۲۰/۲۵ °C (د)		
۶۷- نمودار زیر وزن و ابعاد یک مکعب توپر را در سطح مریخ نشان می دهد. اگر این مکعب را در داخل آب استوانه ای بیندازیم. مکعب در آب..... و آب استوانه.....					
(الف) غوطه ور می شود، بالا می آید.					
(ب) شناور شده، ثابت می ماند.					
(ج) شناور می ماند، بالا می آید.					
(د) فرو می رود، بالا می آید.					
۶۸- چگالی کتاب علوم تجربی شما بصورت تخمینی چقدر است؟					
۰/۰۰۷ kg/m <sup>۳</sup> (الف)	۷۰ g/cm <sup>۳</sup> (ب)	۷۰۰۰ kg/m <sup>۳</sup> (ج)	۰/۷ g/cm <sup>۳</sup> (د)		
۶۹- گزینه مناسب را برای کامل کردن جملات زیر انتخاب کنید.					
(A) سرعت اتومبیلی $90 km/h$ است. سرعت این اتومبیل برابر..... متر بر ثانیه است.					
(B) در اندازه گیری زمان، ترتیب و توالی یک پدیده را بررسی می کنیم تا به سؤال..... پاسخ دهیم.					
(C) نوسانگری در $0/45$ یک نوسان انجام می دهد. این نوسانگر در مدت $3min$ ..... بار نوسان می کند.					
۱۵۰۰، چه وقت، ۴۵۰ (الف)	۲۵، چه مدت، ۷۲ (ب)	۱۵۰۰، چه مدت، ۷۲ (د)	۲۵، چه وقت، ۴۵۰ (ج)		

۷۰- کدام یک از گزینه های زیر صحیح است؟

- (الف) وسیله مقابل راروی شعله حرارت می دهیم، به سمت بالا خم می شود. پس ماده X می تواند آهن باشد.  
 (ب) قطرات آب در هنگام سقوط از ابر، توده هوای سرد را پشت سرمی گذارند و به برف تبدیل می شوند.  
 (ج) جیوه یک عنصر مولکولی است که در دمای معمولی حالت مایع دارد.  
 (د) اینج یکی از واحدهای سطح است که معادل  $2/54$  سانتی متر مربع می باشد.



## اجتماعی

آزمون مرحله دوم دبیرستانهای امام صادق (ع) بهمن ۱۳۹۲

۷۱- از نظر قرآن مجید نجات جان یک نفر مانند این است که.....	الف- خود را از آتش دوزخ نجات دهی	ب- خانواده ای را از غم برهانی
ج- جان همه مردم را نجات داده ای	د- به همه مظلومان کمک کرده ای	
۷۲- کدام گزینه نادرست است.	الف- در محیط خانه فرزندان دارای حق و پدر و مادر دارای مسئولیت هستند.	ب- حق و مسئولیت مانند دو کفه ترازو است که باید تعادل آن حفظ شود.
ج- مسئولیت یعنی وظایفی که ما بر عهده داریم.	د- هیچ فردی نیست که مسئولیت نداشته باشد.	
۷۳- چه چیز به ما کمک می کند ویژگی های طبیعی و انسانی مکان های مختلف و رابطه بین آن ها را بشناسیم؟	الف- کره جغرافیایی	ب- نقشه
ج- کتاب ها و فرهنگ نامه ها	د- دانش جغرافیا	
۷۴- کدام گزینه در مورد قانون اساسی صحیح نیست؟	الف- قوانین آن در مجلس شورای اسلامی به تصویب رسیده است.	ب- مادر همه قوانین است.
ج- توجه خاصی به حقوق اساسی و اجتماعی همه مردم دارد.	د- مهم ترین قانون هر کشور است.	
۷۵- زیان مصرف گرایی چیست؟	الف- اسراف	ب- پیروی از مد
ج- تبلیغات	د- عوض کردن وسایل خانه	
۷۶- کدام یک از گزینه ها از فعالیت شهرداری ها نیست؟	الف- نظافت کوچه ها	ب- حفظ زیستگاه ها
ج- نظارت بر ساخت و سازها	د- ایجاد فرهنگ سراها	
۷۷- دو قله سبلان و سهند در کدام کوه ها قرار دارد؟	الف- کوه های خراسان	ب- کوه های آذربایجان
ج- رشته کوه البرز	د- رشته کوه زاگرس	
۷۸- درختان تاغ و گز در کدام نواحی رشد می کنند؟ در ناحیه.....	الف- گرم و شرجی سواحل جنوب	ب- معتدل و مرطوب خزری
ج- معتدل و نیمه خشک کوهستانی	د- گرم و خشک داخلی	



۷۹- کدام یک از فعالیت های زیر به حفظ درختان جنگل کمک می کند؟			
الف- کمک به تغذیه پرندگان		ب- صرفه جویی در مصرف دستمال کاغذی	
ج- لگدمال نکردن گل های وحشی		د- ریختن غذا برای حیوانات هنگام ریزش برف	
۸۰- جمعیت شهر "الف" ۶۰۰۰۰ نفر و مساحت آن ۳۰ کیلومتر مربع است. تراکم جمعیت آن در هر کیلومتر مربع چقدر است؟			
الف- ۳۰۰ نفر	ب- ۲۰۰ نفر	ج- ۲۰۰۰ نفر	د- ۳۰۰۰ نفر

کارو فناوری هفتم آزمون مرحله دوم دبیرستانهای امام صادق (ع) بهمن ۱۳۹۲

۸۱- دوربین عکاسی ، با روش ..... اختراع شده است .	الف) ایده گرفتن از آفرینش	ب) پرورش قدرت خلاقیت	ج) بررسی روش کار وسایل اطراف خود	د) یاد گرفتن روش طراحی و ساخت
۸۲- کدام یک از فناوری های زیر ، از روی کندوی عسل الگو گرفته شده است؟	الف) آجر های کم وزن	ب) تیر آهن های مشبک (کم وزن)	ج) لاستیک های ویژه ی زمستان	د) هر سه مورد
۸۳- پر کاربرد ترین ابزار فناوری اطلاعات و ارتباطات ..... است.	الف) تلفن همراه	ب) تلویزیون	ج) روزنامه	د) رایانه
۸۴- به تصویر زمینه ی میز کار رایانه ، ..... هم می گویند.	الف) تصویر دلخواه	ب) کاغذ دیواری	ج) کاغذ مجازی	د) ب و ج
۸۵- به منابعی که می توان به اطلاعات آن اطمینان کرد ، منابع ..... می گویند.	الف) مکتوب	ب) معتبر	ج) افراد مطلع و آگاه	د) الکترونیکی
۸۶- برای جمع آوری اطلاعات درمورد آثار باستانی استان فارس به جز تخت جمشید کلید واژه ی ..... مناسب تر است.	الف) آثار باستانی استان فارس + تخت جمشید	ب) آثار باستانی استان فارس - تخت جمشید	ج) آثار باستانی استان فارس - تخت جمشید	د) آثار باستانی استان فارس - تخت جمشید
۸۷- به وب هایی که اطلاعات آن توسط موتور های جست و جوی عمومی بررسی نمی شوند ، وب ..... می گویند.	الف) نامرئی	ب) محرمانه	ج) شخصی	د) حرفه ای
۸۸- ثبت توضیحات، بیان و ارائه ی نتایج مشاهده شده در هر تحقیق و در هر کار را ..... می نامند.	الف) پردازش	ب) ICT	ج) مستند سازی	د) پودمان
۸۹- در جست و جوی اطلاعات ، به واژه های مانند اصفهان ، واژه ی ..... می گویند.	الف) عمومی	ب) کلیدی	ج) تخصصی	د) کلی
۹۰- بازاریابی یعنی .....	الف) شناسایی نیاز مشتریان	ب) تامین نیاز مشتریان	ج) پیدا کردن راه های مناسب فروش کالا و خدمات	د) هر سه مورد